

物理第1問

【ばねによる斜方投射・おもりが投げ出される条件】

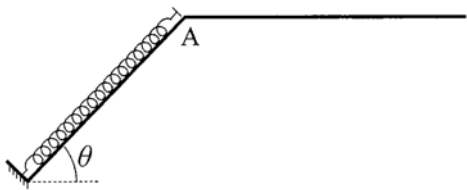


図1-1

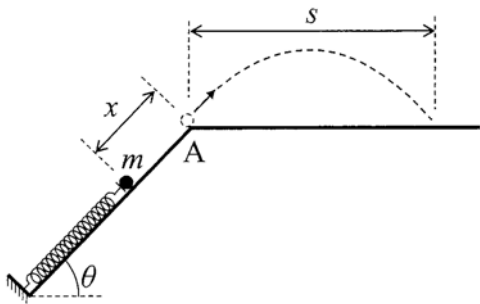
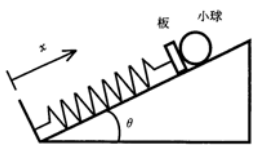


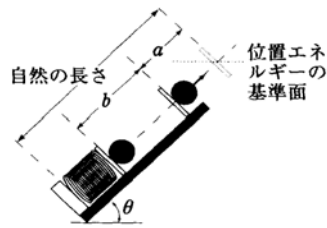
図1-2

【ばねによる斜方投射・おもりが投げ出される条件】

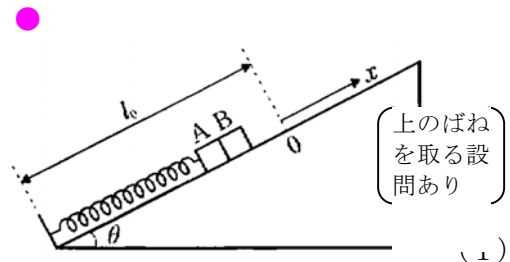
★ ★



(夏)



(2)



(1)

◆コメント◆

さすがに放物運動の計算は、あまりに平易なため省略させていただきます。